




CHE ORE SONO?


* Disegna le lancette degli orologi nella posizione giusta.



al mattino



Sono le ore 7 e 30 minuti.




Sono le ore 11.




È mezzogiorno.




al pomeriggio
e alla sera



Sono le ore 14 e 30 minuti.



Sono le ore 20.



Sono le ore 22 e 30 minuti.