

PESO LORDO, PESO NETTO E TARA

1. Completa le affermazioni scrivendo **peso lordo**, **peso netto** o **tara** al posto dei puntini.

- indica il peso della merce senza il contenitore.
- indica il peso del solo contenitore.
- indica il peso della merce unito a quello del contenitore.

2. Completa scrivendo + oppure – nelle caselle.

Peso lordo = Peso netto ☐ Tara

Peso netto = Peso lordo ☐ Tara

Tara = Peso lordo ☐ Peso netto



3. Completa le tabelle eseguendo le eventuali equivalenze.

a

Peso Lordo	Peso Netto	Tara
15,5 kg	13,9 kg hg
..... g	1,35 hg	18 g
345 g hg	75 g
2,5 kg hg	25 g
35 g	295 dg dg

b

Peso Lordo	Peso Netto	Tara
24 kg kg	18 hg
750 kg kg	720 hg
68 dag	13 dag hg
..... hg	2,45 hg	3,4 dag
2,540 kg hg	115 g

4. Risolvi i seguenti problemi.

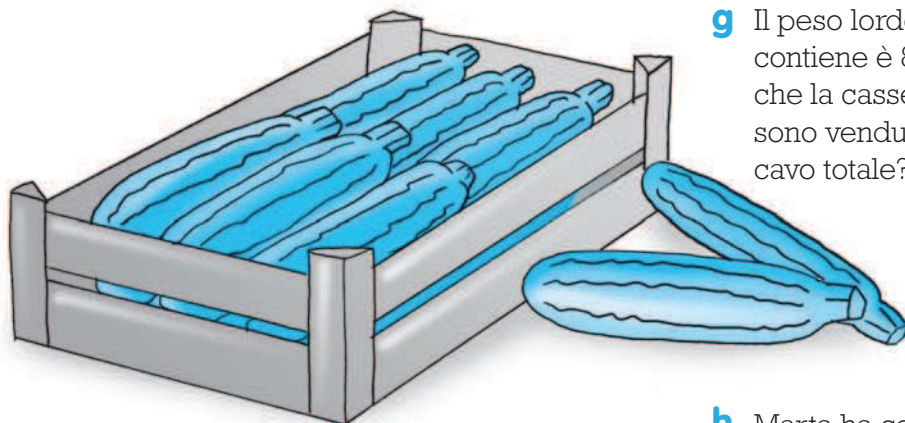


- a** Una scatola di tonno pesa 245 g e contiene 2 hg di tonno. Qual è la tara?
- b** Un barattolo pieno di conserva di pomodoro pesa 6,5 hg. Il barattolo vuoto pesa 125 grammi. Calcola il peso netto.
- c** Sull'etichetta di un barattolo di pesto è scritto: «peso lordo 2 hg», «tara 48 g». Quanto pesa il pesto contenuto nel barattolo?
- d** Una cassetta contiene 7 kg di mele. Se la cassetta vuota pesa 750 g, qual è il peso lordo?
- e** Un barattolo di marmellata pesa 450 g. Se il barattolo vuoto pesa 50 g, qual è il peso netto?



PESO LORDO, PESO NETTO E TARA

1. Risolvi i seguenti problemi.

- a Una cesta e le ciliegie che contiene pesano 6,5 kg. Se la cesta vuota pesa 7,8 hg, qual è il peso netto?
- b Una vaschetta contiene 850 g di gelato. Se la tara è 45 g, qual è il peso lordo?
- c Il peso lordo di un vasetto di vetro che contiene della mostarda è 5 hg. Se la mostarda da sola pesa 345 g, qual è il peso del vasetto vuoto?
- d Dentro una scatola, che vuota pesa 0,6 hg, ci sono 12 barattoli di vetro pieni di marmellata di pesche. Quanti chilogrammi pesa la scatola piena se la tara di ogni barattolo è 125 g e la marmellata che contiene è 350 grammi?
- e Il latte contenuto in una confezione pesa 500 g. La confezione vuota pesa 35 g. Se la mamma di Marco acquista 4 pacchetti di latte, qual è il peso lordo totale?
- f La mamma di Alessia ha comprato 2 barattoli di sottaceti e un vasetto di crema di arachidi. Il peso netto dei sottaceti contenuti in ogni barattolo è 2,25 hg e ogni vasetto che li contiene pesa 1,5 hg. La crema di arachidi pesa 350 g e il vasetto di vetro vuoto pesa 115 g. Calcola il peso lordo totale dei tre barattoli.



- g Il peso lordo di una cassetta e delle zucchine che contiene è 8,5 kg. Calcola il peso netto, sapendo che la cassetta vuota pesa 13 hg. Se le zucchine sono vendute a € 1,75 il chilogrammo, qual è il ricavo totale?
- h Marta ha comprato 3 cestini di fragole del peso lordo di 500 g ciascuno. Se i cestini vuoti pesano 125 g l'uno, qual è il peso netto delle fragole acquistate?