









1. Riconosci i vari tipi di linea e completa la tabella mettendo una **x** negli incroci corretti.

	Aperta	Chiusa	Curva	Spezzata	Mista
					
					
					
					
					
					

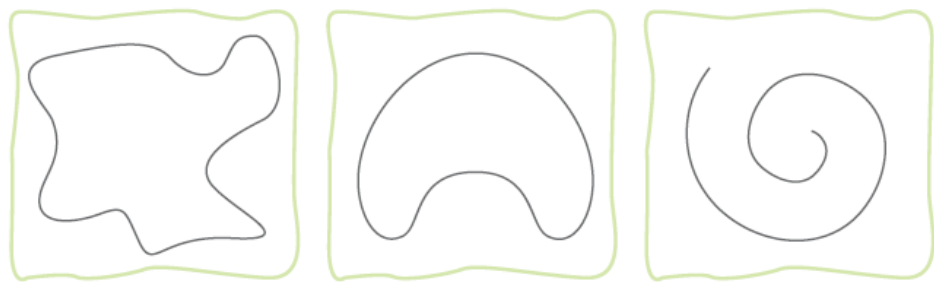
2. Completa la tabella disegnando le linee negli incroci.

	Aperta	Chiusa
Curva		
Spezzata		
Mista		

2. Osserva le linee e scrivi vero (V) o falso (F).

	Linea spezzata	<input type="checkbox"/>		Linea verticale	<input type="checkbox"/>
	Linea curva	<input type="checkbox"/>		Linea verticale	<input type="checkbox"/>
	Linea orizzontale	<input type="checkbox"/>		Linea curva	<input type="checkbox"/>
	Linea mista	<input type="checkbox"/>		Linea mista	<input type="checkbox"/>

2. Colora di rosso il confine, di verde la regione interna e di blu la regione esterna di ogni figura.



Hai potuto colorare
tutti e tre i disegni?
☐ Sì ☐ No

Indica con una crocetta nella tabella dove si trovano i simboli.



	Regione interna	Regione esterna	Confine
			
			
			
			
