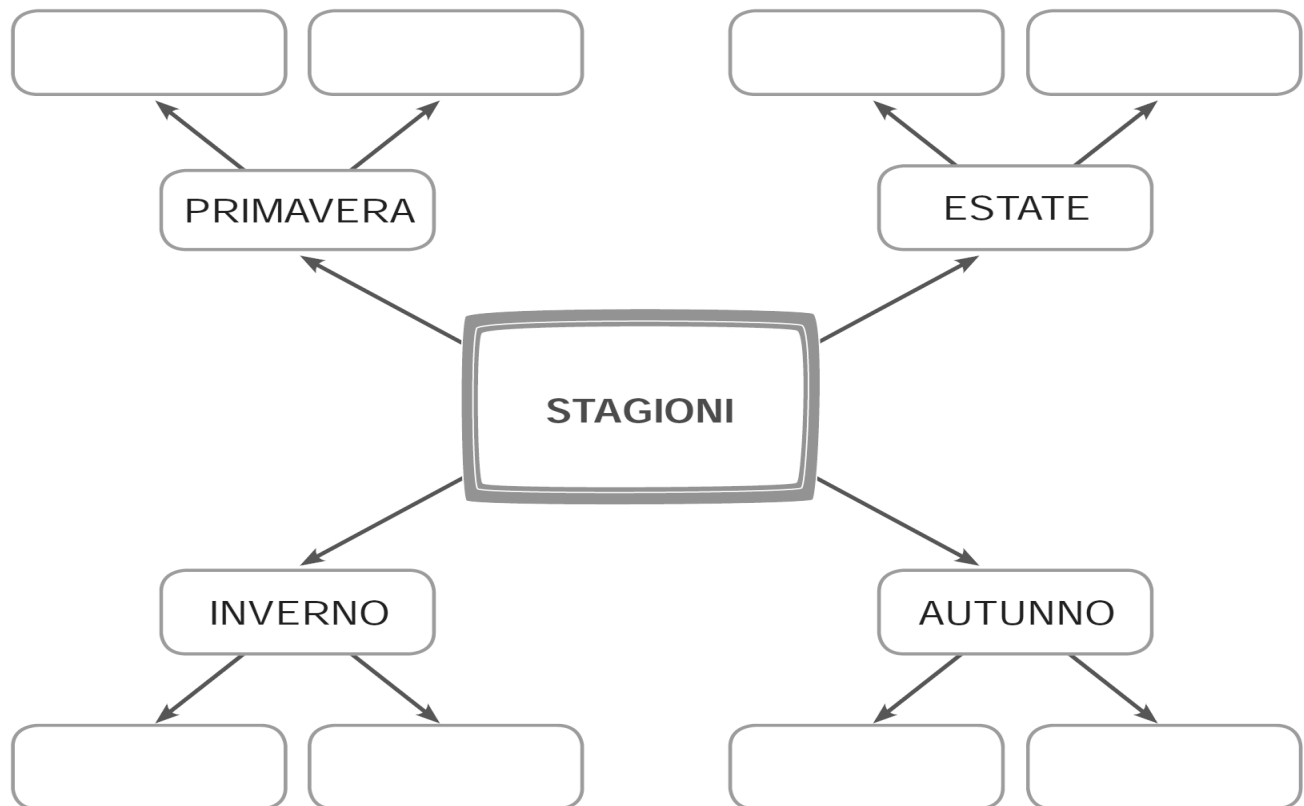


STORIA – VERIFICA D'INGRESSO CLASSE TERZA

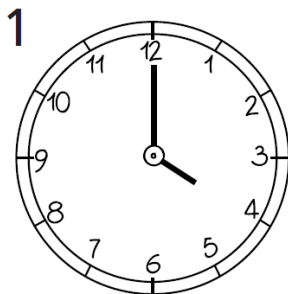
- **Scrivi il nome dei mesi che mancano**

GENNAIO - - MARZO - - MAGGIO -
..... - - AGOSTO – SETTEMBRE –
OTTOBRE - -

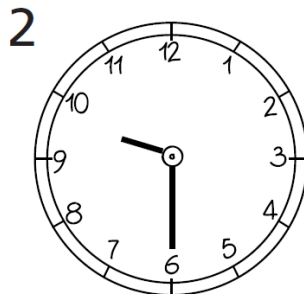
- **Completa lo schema inserendo correttamente la data di inizio e quelle di fine di ogni stagione:** 21 settembre - 21 dicembre - 20 giugno - 20 dicembre - 20 marzo – 22 settembre – 21 marzo – 21 giugno



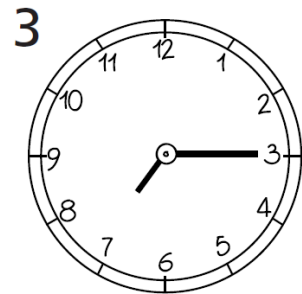
- **Osserva gli orologi e scrivi l'ora che indicano**



.....



.....



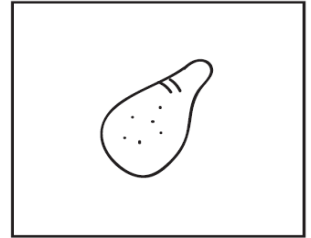





.....

▪ **Rispondi**

- Nell'orologio 1 quante ore mancano alle 07:00?
- Nell'orologio 2 quanto tempo è passato dalle 06:00?
- Nell'orologio 3 quanto manca alle 08:00?

▪ **Osserva le immagini e ordinale in base al processo naturale della crescita**



▪ **Osserva le seguenti azioni e mettile in ordine di durata crescente inserendo i numeri da 1 a 6.**



Mangiare un gelato



Allacciarsi le scarpe



Leggere dieci pagine di un libro



Imparare a scrivere



Fare un tiro in porta



Dormire tutta la notte