

RIPASSIAMO CIÒ CHE ABBIAMO IMPARATO

- Calcola a mente.

+ 1 da	+ 9 \rightarrow + 10 - 1	- 1 da	- 9 \rightarrow - 10 + 1
$4 + 10 =$	$4 + 9 =$	$16 - 10 =$	$16 - 9 =$
$22 + 10 =$	$22 + 9 =$	$11 - 10 =$	$11 - 9 =$
$43 + 10 =$	$65 + 9 =$	$59 - 10 =$	$51 - 9 =$
$75 + 10 =$	$36 + 9 =$	$32 - 10 =$	$48 - 9 =$
$148 + 10 =$	$51 + 9 =$	$77 - 10 =$	$87 - 9 =$
$89 + 10 =$	$13 + 9 =$	$95 - 10 =$	$97 - 9 =$
$372 + 10 =$	$184 + 9 =$	$128 - 10 =$	$27 - 9 =$

- Completa la tabella.

X	9	7	1	5	0	3
6						
4						
10						
2						
8						

- Calcola in colonna sul quaderno.

$25 + 66 =$	$70 - 25 =$	$12 + 64 + 17 =$
$98 - 76 =$	$112 + 9 + 28 =$	$45 \times 2 =$
$47 + 58 =$	$12 \times 9 =$	$116 - 79 =$
$36 \times 6 =$	$200 - 186 =$	$27 \times 5 =$

- Scrivi i seguenti numeri in ordine crescente.

$20 - 3 - 10 - 64 - 14 - 22 - 19 - 56 - 37 - 49 - 21$.

- Cerchia in rosso i numeri pari e in verde quelli dispari.





- Calcola a mente.

$13 + 5 =$	$63 + 4 =$	$18 - 6 =$	$91 - 3 =$
$15 + 4 =$	$85 + 6 =$	$45 - 3 =$	$19 - 19 =$
$29 + 8 =$	$26 + 6 =$	$37 - 4 =$	$71 - 9 =$
$20 + 7 =$	$34 + 15 =$	$86 - 8 =$	$44 - 21 =$

- Calcola a mente.

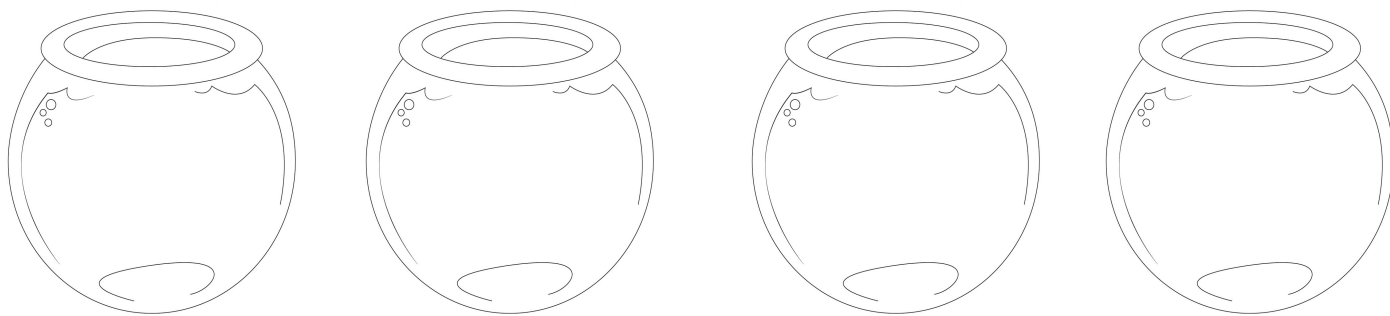
$1 \text{ da} + 5 \text{ u} =$	$2 \text{ da} - 5 \text{ u} =$
$2 \text{ da} - 6 \text{ u} =$	$45 \text{ u} - 3 \text{ u} =$
$18 \text{ u} + 2 \text{ u} =$	$2 \text{ u} + 3 \text{ da} =$
$4 \text{ u} + 7 \text{ da} =$	$9 \text{ da} - 3 \text{ da} =$
$6 \text{ da} - 30 \text{ u} =$	$8 \text{ da} - 15 \text{ u} =$

- Osserva e calcola.

	<p>In un vaso ci sono 4 fiori.</p> <p>Quanti fiori ci sono in 3 vasi? _____</p> <p>Quanti fiori ci sono in 6 vasi? _____</p>
	<p>Una bicicletta ha ruote.</p> <p>Quante ruote vedo complessivamente se ho 4 biciclette? _____</p> <p>E se ne ho 5? _____</p>
	<p>In una confezione ci sono uova.</p> <p>Quante uova ci sono in 2 confezioni? _____</p> <p>E in 7 confezioni? _____</p> <p>E in 10? _____</p>
	<p>Un'automobile ha ruote.</p> <p>Quante ruote ci sono complessivamente in 2 auto? _____</p> <p>E in 5 auto? _____</p> <p>E in 8 auto? _____</p>

- Leggi e disegna.

1. Disegna 2 pesci in **OGNI** boccia.




Quanti pesci IN TUTTO?

OPERAZIONE: _____

OPERAZIONE: _____

2. Disegna 4 fiori in **CIASCUN** vaso.



Quanti fiori IN TUTTO?

OPERAZIONE: _____

OPERAZIONE: _____

3. Disegna 8 caramelle in **OGNI** vasetto.



Quante caramelle IN TUTTO?

OPERAZIONE: _____

OPERAZIONE: _____