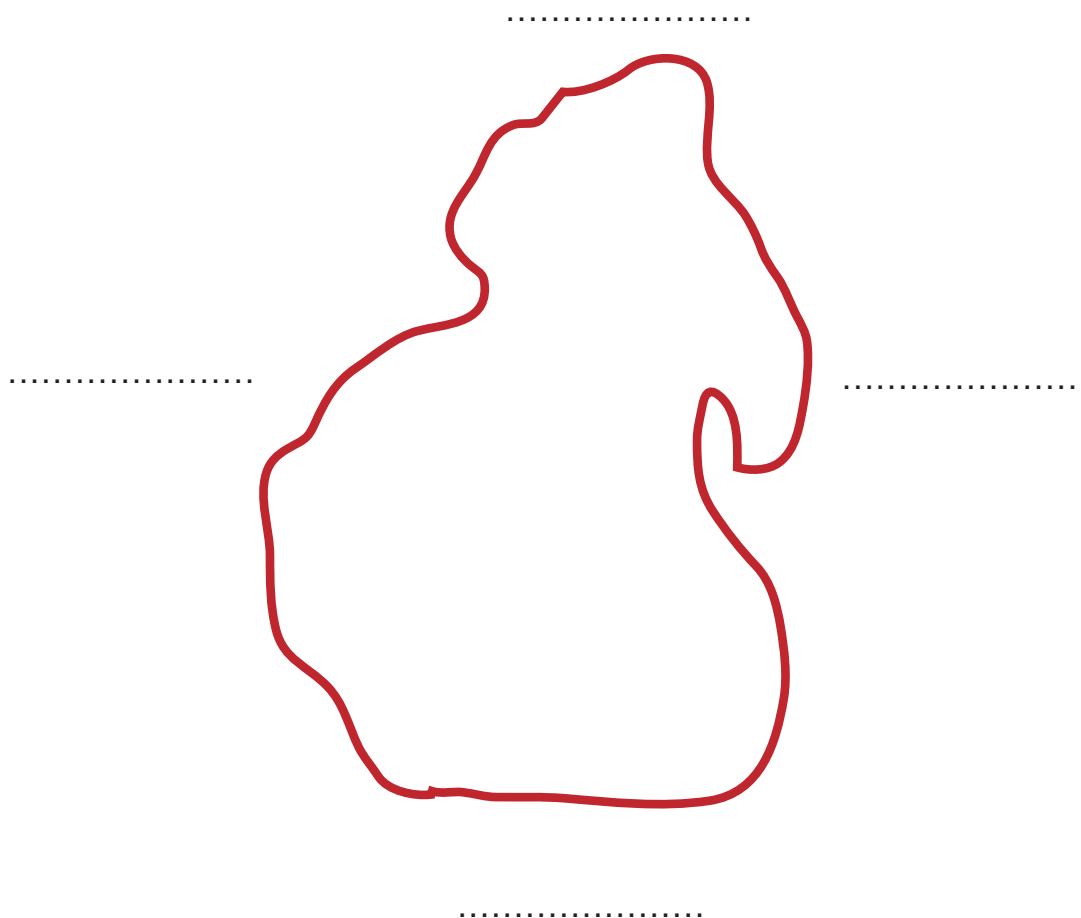


Nome ..... Classe ..... Data .....

**UN'ISOLA MISTERIOSA... / PUNTI CARDINALI**

- Rappresenta gli elementi secondo le indicazioni. Prima di cominciare scrivi i punti cardinali al posto giusto.

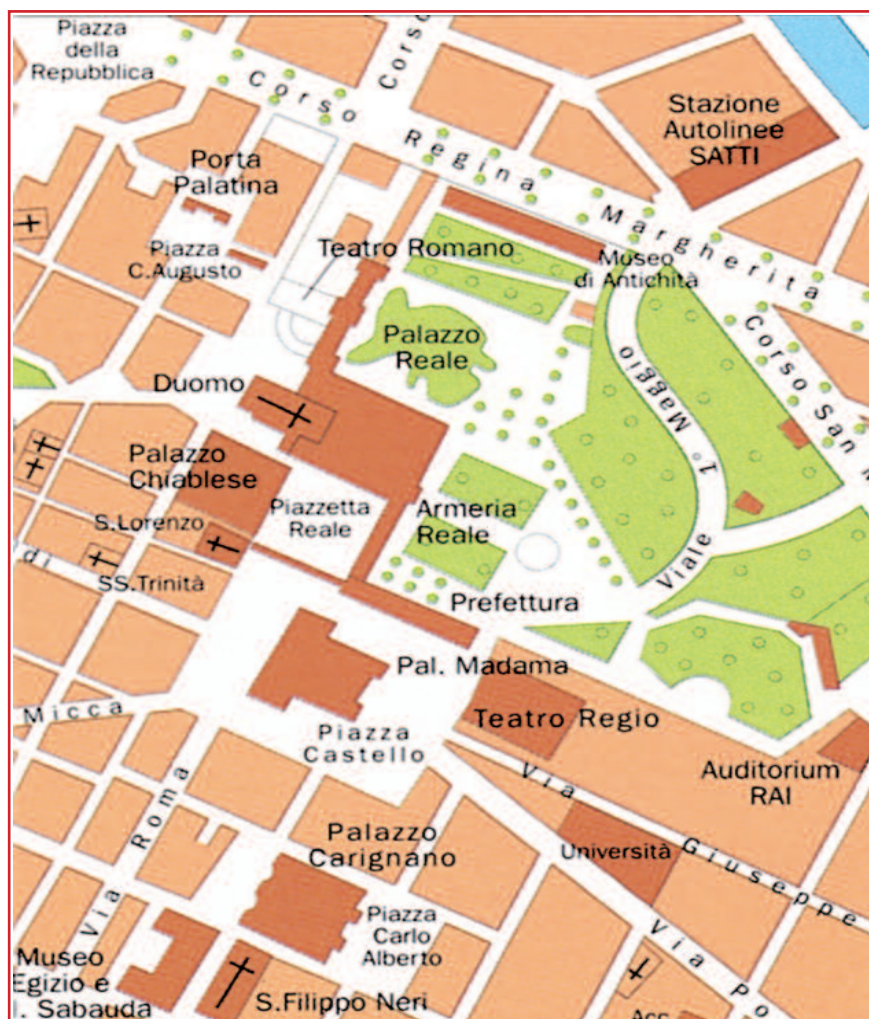
**Disegna:**

- a nord tre palme;
- a sud una capanna;
- a est due navi;
- a ovest cinque scogli.

Nome ..... Classe ..... Data .....

## LA PIANTA DI UNA CITTÀ

- Osserva la pianta e rispondi alle domande sul quaderno.





- Distingui le abitazioni? Da che cosa le riconosci?
- Quanti e quali luoghi di culto riconosci?
- Dove si trova la stazione Satti rispetto a piazza Castello?
- Questa rappresentazione ti sembra particolareggiata? Perché?

Nome ..... Classe ..... Data .....

**ALLA RICERCA DEGLI ELEMENTI ANTROPICI**

- Colora soltanto gli elementi antropici.



Quali elementi hai colorato nel paesaggio a sinistra?

.....

.....

Quali elementi hai colorato nel paesaggio a destra?

.....

.....

Nome ..... Classe ..... Data .....

**CARTA D'IDENTITÀ DELL'ITALIA**

- Rispondi dopo avere ben osservato la carta fisica dell'Italia.

Colori utilizzati:

.....  
 .....

In alcune zone il mare è di colore azzurro più intenso perché .....

.....  
 .....

Come si chiama la catena montuosa che si estende da ovest verso est?

.....

E quella che si estende da nord-ovest verso sud-est?

.....

Puoi evidenziare delle città su questa carta? Perché?

.....  
 .....  
 .....  
 .....