





## LA STRADA GIUSTA

 Tre cavalieri si mettono in viaggio per andare a liberare la principessa prigioniera del drago. Un solo cavaliere riuscirà a superare gli ostacoli e a prendere la strada giusta per liberarla. Quale? Per scoprirlo, traccia con la matita rossa il percorso del cavaliere che riuscirà ad arrivare alla grotta dove il drago tiene prigioniera la principessa. Usa la matita verde e quella blu per segnare il percorso degli altri due cavalieri.



 Scrivi quali ostacoli trovano i tre cavalieri sulla loro strada.

Percorso rosso: .....

.....

Percorso verde: .....

.....


Percorso blu: .....

.....



## A OGNI SPAZIO I SUOI ELEMENTI A OGNI ELEMENTO LA SUA FUNZIONE

😊 ✎ Osserva con attenzione i disegni dei due ambienti e sotto ciascuno di essi scrivi tutti gli elementi che vedi e la loro funzione.



ELEMENTO	SERVE A ...

ELEMENTO	SERVE A ...