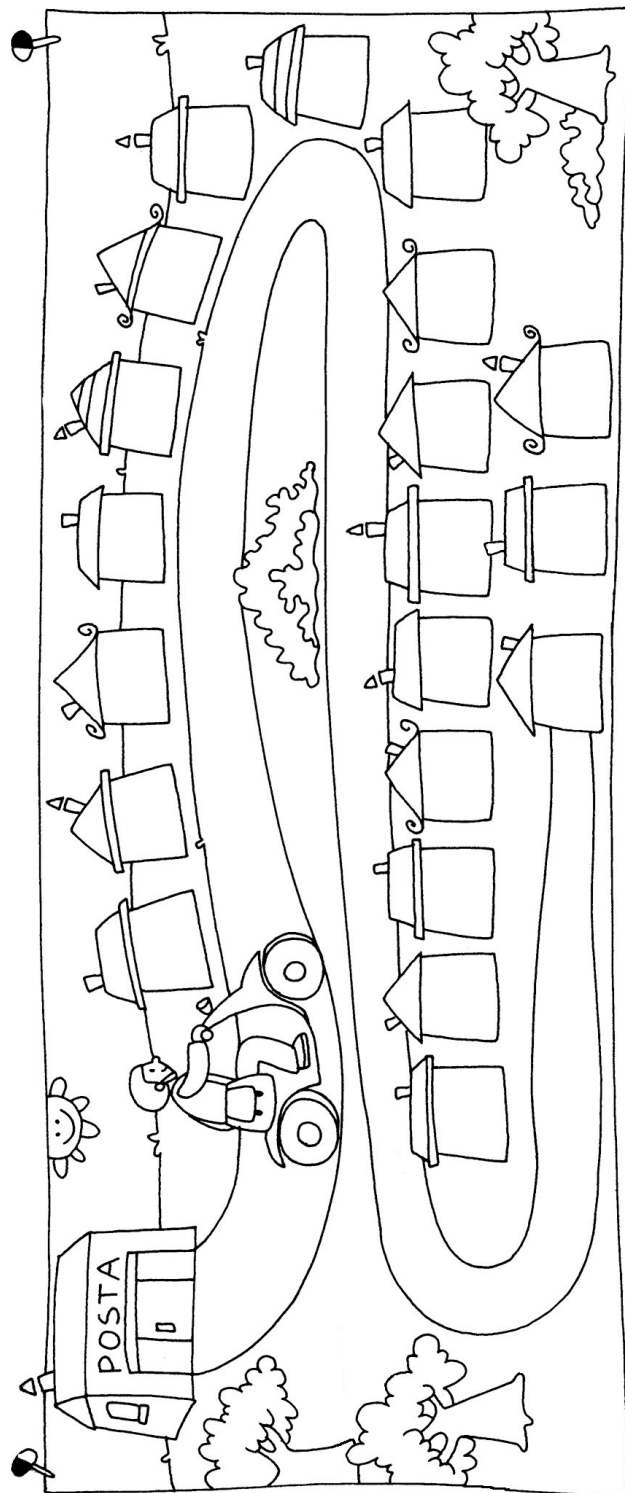


Nome Classe Data

AIUTA IL POSTINO!

★ Numera le casette e poi colora.

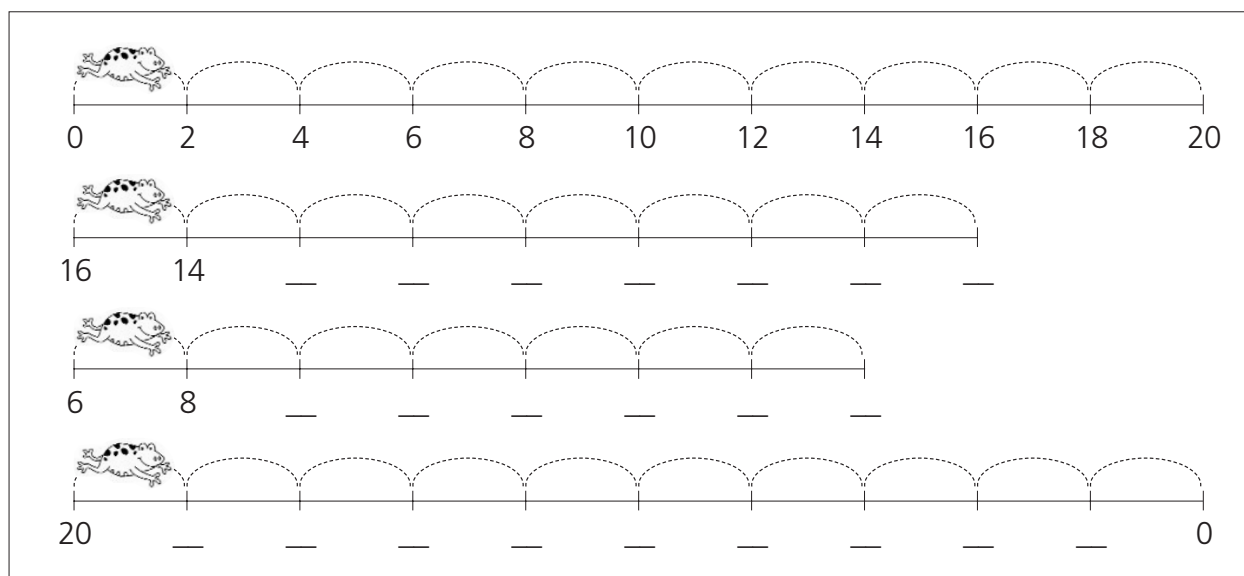


Nome Classe Data

I SALTI DELLA RANA

- ★ Scrivi i numeri corrispondenti ai salti della rana.
- ★ Scrivi che regola segue, come nell'esempio.

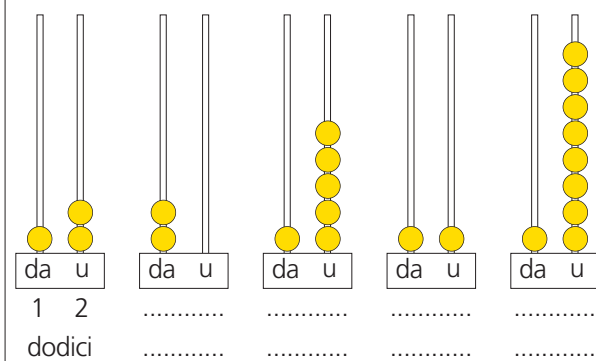
REGOLA: + 2



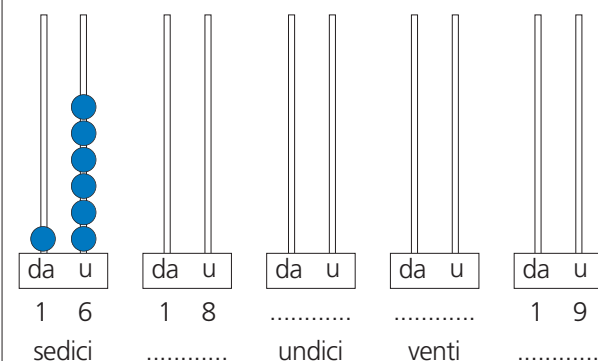
Nome Classe Data

ABACI E NUMERI

★ Scrivi sotto ogni abaco il numero corrispondente, sopra in cifre, sotto in lettere.



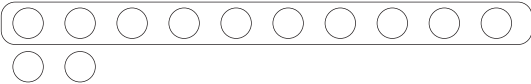
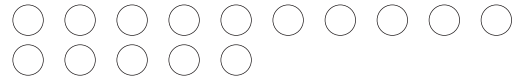

★ Ora attenzione: seguendo l'esempio precedente, completa le parti mancanti.



Nome Classe Data

QUANTITÀ, NUMERI IN CIFRE E LETTERE

★ Completa seguendo l'esempio: nella prima colonna raggruppa ogni decina di palline e al termine colorale.


QUANTITÀ	N. IN CIFRE	N. IN LETTERE	DA	U
	12	dodici	1	2
				
		diciotto		
	20			
			1	9
				
		tredici		
	14			

Nome Classe Data

SCHIERAMENTI DI OGGETTI

★ Disegna i seguenti schieramenti, come nell'esempio, e rispondi alle domande.

Disegna 18 uova in fila per 6.



Quante uova ci sono in ogni fila?

Quante sono le file?

Disegna 18 coccinelle su 3 file.

Quante coccinelle ci sono in ogni fila?

Quante sono le file?

Disegna 20 fiori in fila per 2.

Quanti fiori ci sono in ogni fila?

Quante sono le file?

Disegna 20 funghi su 4 file.

Quanti funghi ci sono in ogni fila?

Quante sono le file?

Nome Classe Data

IL TRENINO DELLE ADDIZIONI


★ Fai le operazioni e poi collega ognuna con il vagone che contiene la soluzione giusta.

$1 + 3$

$1 + 5$

$6 + 2$

$4 + 3$



$4 + 5$

$5 + 5$

$2 + 1$

$1 + 4$