






Nella fattoria di Giacomo ci sono gli animali rappresentati in tabella.

10					
9					
8					
7					
6					
5					
4					
3					
2					
1					
					

ANIMALE	FREQUENZA
Cane	
Gatto	
Anatra	
Gallina	
Coniglio	
TOTALE	_____

Rispondi.

1) Quali animali sono di più ?

2) Quali animali sono di meno ?

3) Quante sono le galline in più delle anatre ?

4) Quanti sono gli animali in tutto ?
