

Nome: _____

Cognome: _____

Classe: _____

Data: ____/____/____

VERIFICA DI STORIA

1 Completa con le seguenti parole:

lancetta lunga • 60 • ore • giro completo.

Nell'orologio la lancetta corta indica le, la indica i minuti. In un'ora ci sono minuti. Mentre la lancetta lunga fa un quella corta si sposta di un'ora.

2 Indica per ogni frase se è vera o falsa, scrivendo V o F.


☐ La lancetta dei minuti è più veloce di quella delle ore.

☐ Le due lancette girano con la stessa velocità.


☐ Quando la lancetta piccola si è spostata di 2 ore, quella dei minuti ha fatto 2 giri completi.

☐ Quando la lancetta dei minuti ha fatto mezzo giro, la lancetta piccola si trova a metà strada tra un'ora e quella successiva.


3 Che ore sono? Scrivi l'ora segnata da ogni orologio.




.....



.....




.....




.....


4 Disegna le lancette a ogni orologio.




Sono le 11.



Sono le 5 e 45.



È mezzogiorno e 10.



Sono le 7 e 30.

5. Qual è l'effetto?

Osserva e colora l'immagine del riquadro grande. Individua nei riquadri piccoli il **possibile effetto** dell'evento illustrato e colora il riquadro corretto.



CAUSA




EFFETTO


Scrivi una frase che descriva l'evento:

6. Qual è la causa?

Osserva e colora l'immagine del riquadro grande. Individua nei riquadri piccoli la **possibile causa** dell'evento illustrato e colora il riquadro corretto.



CAUSA



EFFETTO

Scrivi una frase che descriva l'evento:
