


# Come si sono formati i rilievi

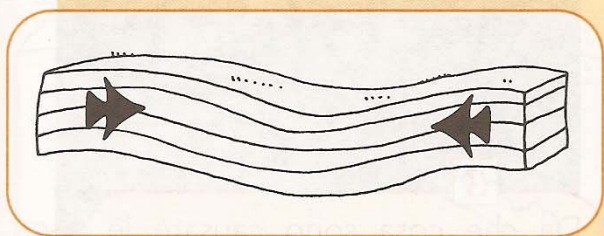
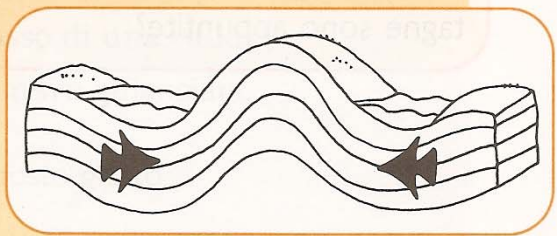
1 Osserva i disegni e completa i testi con le parole mancanti, scegliendole tra le seguenti:

- vulcani   rilievo   corrugamento   strati**  
**montagne   anni   sollevare**



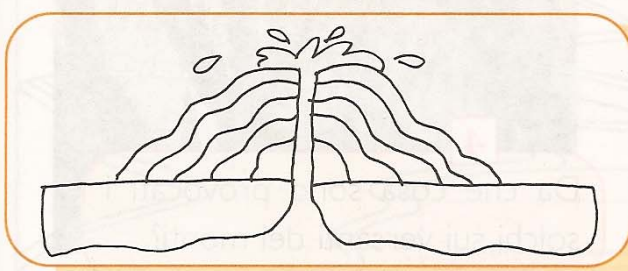
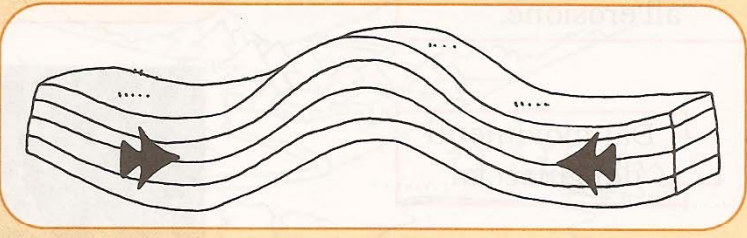
Milioni di ..... fa sul fondo del mare c'erano ..... di materiali di varia origine.

Enormi pressioni dovute ai movimenti della crosta terrestre fecero .....  
 ..... gli strati.  
 Nacquero così colline e .....



In altri casi ci fu il ..... della crosta terrestre in superficie sotto la spinta di materiali in movimento.

Anche qui la massa rocciosa si sollevò formando un .....



Altri rilievi nascono dai ..... : la lava che fuoriesce da essi si solidifica e forma una montagna a forma di cono.

Riconoscere gli elementi fisici di un paesaggio, cogliendo i principali rapporti di connessione e interdipendenza (la formazione dei rilievi).

