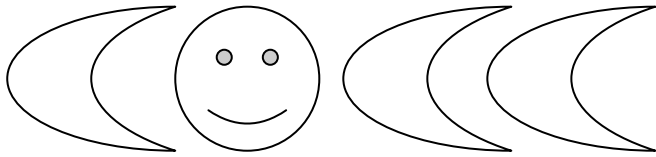

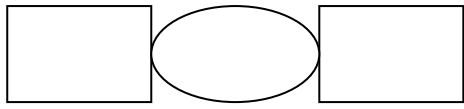
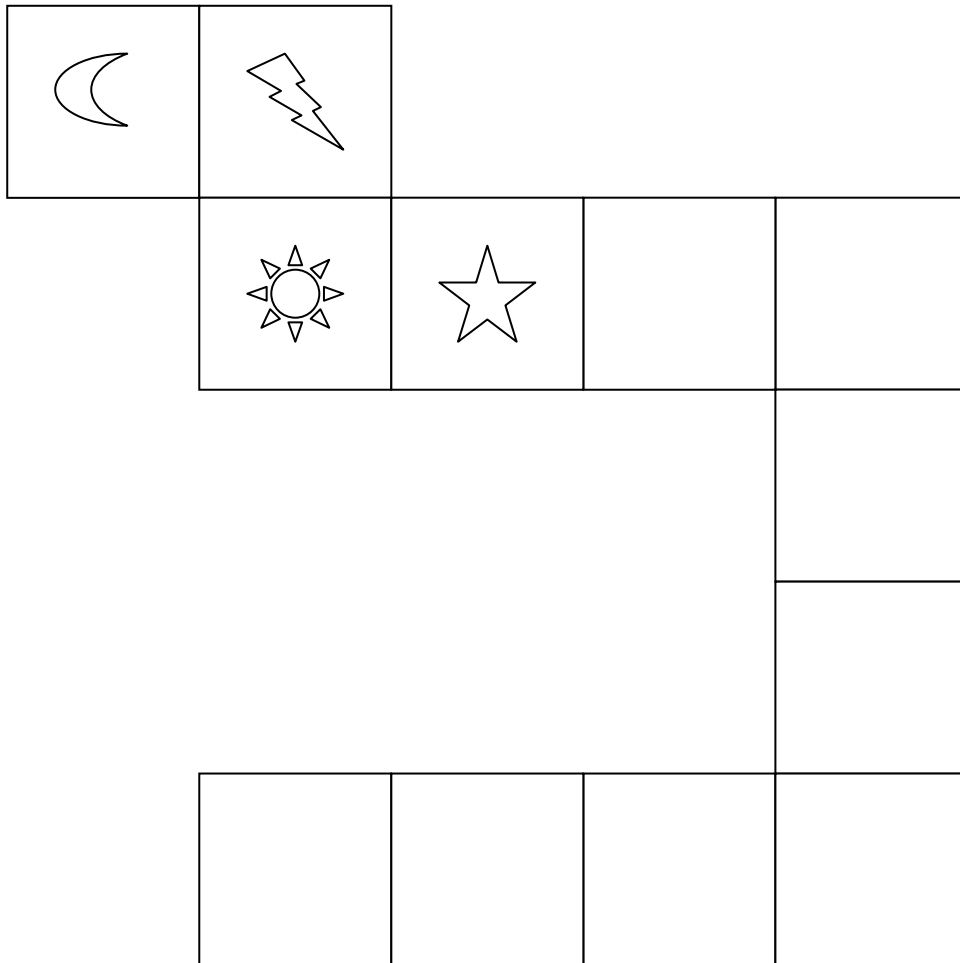


SEGUI IL RITMO...

1) Continua tu...



2) Osserva la successione dei disegni e continua...




IMPARO A CLASSIFICARE...

1) Disegna i mezzi di trasporto nel posto giusto:

GARAGE

Automobili



Camion



Mezzi di
soccorso



Mezzi agricoli



2) Disegna 10 bambini e forma 2 gruppi :

-scarpe da ginnastica (primo gruppo)

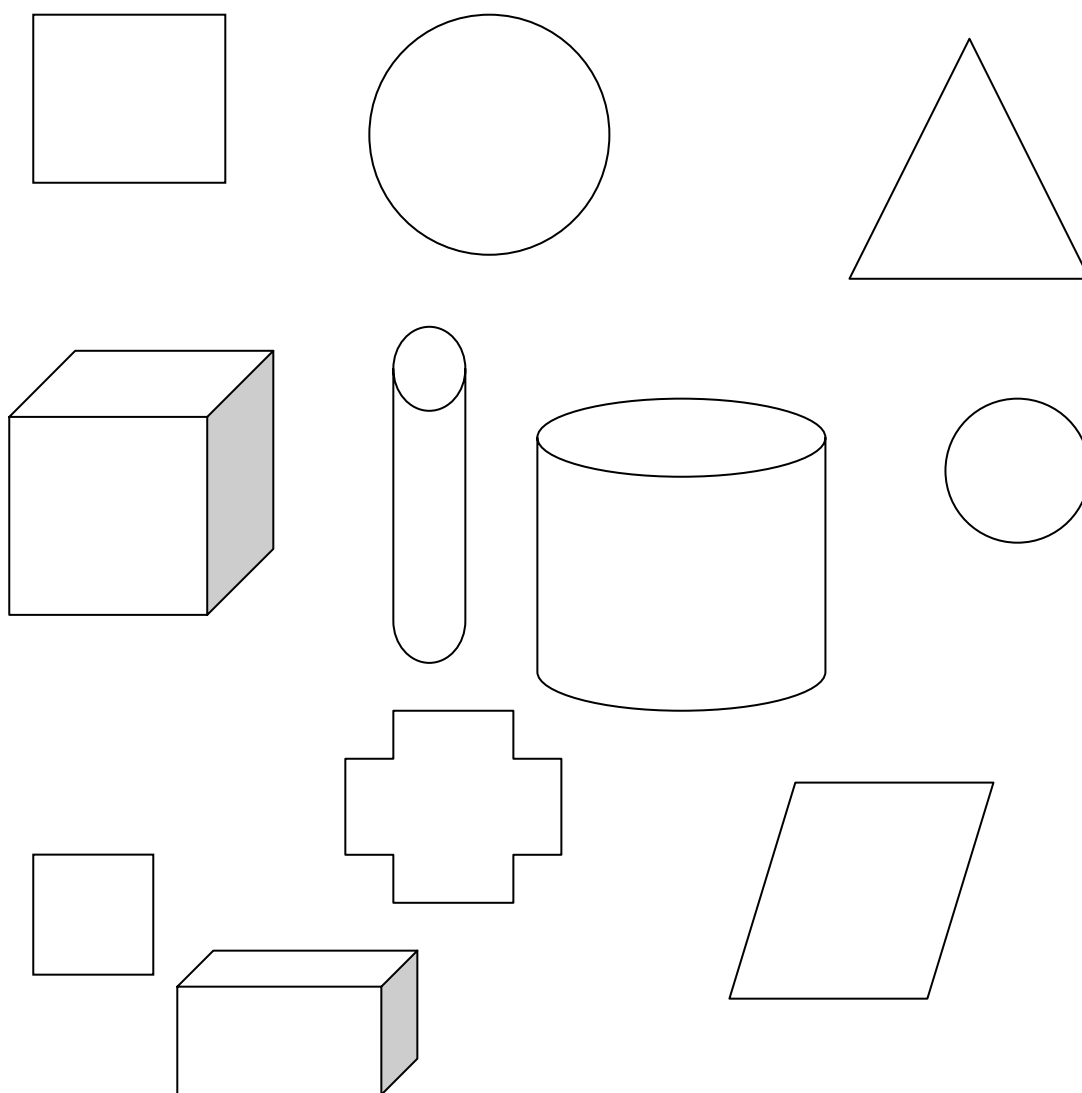
-occhiali (secondo gruppo)

3) Forma 3 gruppi:

figure solide (primo gruppo)

figure piane (secondo gruppo)

figure solide che rotolano (terzo gruppo)



Inventa tanti altri esercizi sulle classificazioni...

PROBLEMI

Mattia ha tante automobili, ma non sa quante sono; aiutalo tu a scoprirlo seguendo questi indizi:

- 1) il numero delle automobili è maggiore di 15 e minore di 20 sono...
- 2) è pari, ma non è 16 è...

Ad una corsa partecipano 5 bambini che hanno scritti sul pettorale i numeri 1-2-3-4-5; quale numero porterà il vincitore? Scoprillo seguendo gli indizi:

- 1) è un numero dispari sono...
- 2) dei tre il vincitore è il numero che sta in mezzo il vincitore porta il numero...

L'ispettore Gadget è stato chiamato dal conte Furbis che proprio nella notte è stato derubato: un misterioso ladro ha portato via tutti i gioielli del conte dalla cassaforte, ma prima di sparire ha lasciato un messaggio per l'ispettore Gadget:

SE SCOPRIRAI IL NUMERO DELL'ABITAZIONE DOVE MI TROVO TI RESTITUIRO' TUTTA LA REFURTIVA. SEGUI GLI INDIZI:

- 1) Conta per 2 da 0 a 20
... ..
- 2) è un numero formato da una cifra
... ..
- 3) non è lo zero
... ..
- 4) non è il primo numero della serie
... ..
- 4) è il numero che nella serie sta in mezzo
...